

**2019-2020 Eğitim-Öğretim Yılı İçin
Burs ve Giriş Sınavı**

Matematik Soru Kitapçığı

11 Mayıs 2019

İsim - Soyisim :

Sınıf :

Uyarı: Başlayınız denilmeden soru kitapçığını açmayınız.

Açıklamalar

1. Bu soru kitapçığı 40 Matematik olmak üzere 12 sayfadan oluşmaktadır.
Lütfen kontrol ediniz.
2. Sınav süresi 90 dakikadır.
3. Cevaplar, cevap kağıdına işaretlenecektir.
4. Size zor gelen sorular üzerinde fazla zaman harcamayıp, başka sorulara geçiniz. Zamanınız kalırsa cevaplamadığınız sorulara yeniden dönebilirsiniz.

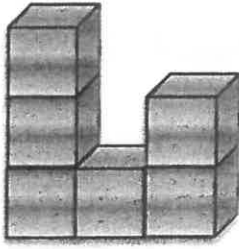
Başarılar dileriz.

Matematik Soruları


1) "896543" doğal sayısı için aşağıdakilerden hangisi yanlıştır?

- A) 896565 doğal sayısından küçüktür.
B) On binler basamağındaki rakamın sayı değeri, yüzler ve onlar basamağındaki rakamların sayı değerleri toplamına eşittir.
C) Basamak değeri en büyük olan rakam 8'dir.
D) Okunuşu "sekiz bin dokuz yüz altmış beş bin kırk üç" dür.

2)

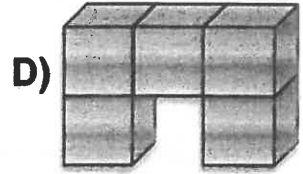
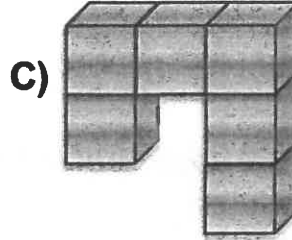
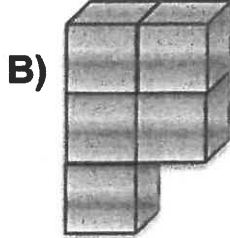
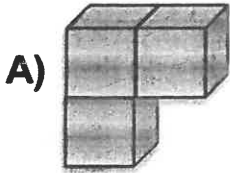


Şekil I



Şekil II

İki şekli birbirine eş yapmak için Şekil I'e seçeneklerden hangisi eklenmelidir?



3) Binler bölümü 321, milyonlar bölümü 105, birler bölümü 82 olan sayı aşağıdakilerden hangisidir?

A) 321 105 820

B) 321 105 082

C) 105 321 820

D) 105 321 082

4) Sevda, 1350 TL'ye aldığı bir televizyonu 9 taksitte ödeyecektir. Buna göre, Sevda televizyonun 5.taksitini yatırdığında geriye kaç TL borcu kalır?


A) 600

B) 650

C) 700

D) 550

5)



Yukarıdaki sayı doğrusunda belirtilen soru işareti hangi ondalık sayıyı ifade eder?

A) 1.21

B) 2.1

C) 2.2

D) 2.9

6) Bir kenar uzunluğu 28 metre olan kare şeklindeki bir sahayı iki kez koşan sporcu sahada kaç metre koşmuş olur?

A) 112

B) 224

C) 228

D) 784

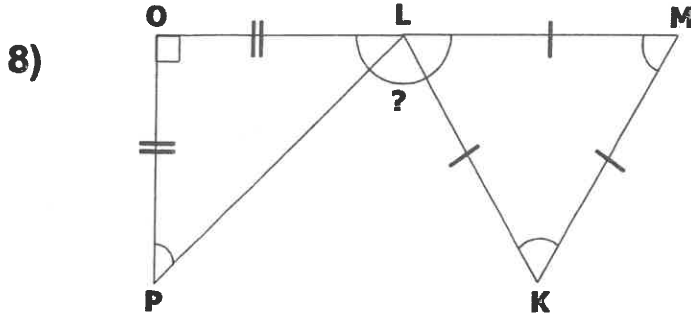
7) Bir kesrin hem payı hem paydası 6 ile çarpılırsa kesirde nasıl bir değişme olur?

A) Kesrin değeri değişmez.

B) Kesir altı kat küçülür.

C) Kesir altı kat büyür.

D) Kesir 12 kat büyür.



Yandaki şekilde KLP açısının iki katı kaçtır?

- A) 45° B) 150° C) 120° D) 75°

9) Seval Pembe'ye 30 TL verirse paraları eşit oluyor. Buna göre aşağıdakilerden hangisi doğrudur?

- A) Seval'ın parası Pembe'nin parasından 60 TL fazladır.
 B) Seval'ın parası Pembe'nin parasından 30 TL azdır.
 C) Seval'ın parası Pembe'nin parasından 30 TL fazladır.
 D) Pembe'nin parası Seval'ın parasından 60 TL fazladır.

10) 7A4B6 sayısı beş basamaklı bir doğal sayıdır. $A+B=8$ ve A'nın sayı değeri, B'nin sayı değerinin 3 katı olduğuna göre, A kaçtır?

- A) 2 B) 4 C) 6 D) 8

11) Ondalık sayıların büyükten küçüğe doğru sıralanışı aşağıdakilerden hangisidir?

- A) $7.010 > 7.1 > 7.001$
 B) $7.1 > 7.010 > 7.001$
 C) $7.001 > 7.010 > 7.1$
 D) $7.1 > 7.001 > 7.010$

12) 745 sayısı 100 ile çarpıldığında sayı kaç artar?

- A) 100
- B) 73755
- C) 174500
- D) 745000

13) 7 10 6 9 5 A B C

Yukarıdaki sayı örüntüsünün kuralına göre, A, B ve C sayılarının toplamı kaçtır?

- A) 16
- B) 17
- C) 18
- D) 19

14) AAAA + AAA + AA + A = 9872

Yukarıda verilen toplama işleminde A yerine hangi rakam gelmelidir?

- A) 6
- B) 7
- C) 8
- D) 9

15) İki sayının toplamı 80, farkı 34 olduğuna göre, bu sayılardan büyük olan kaçtır?

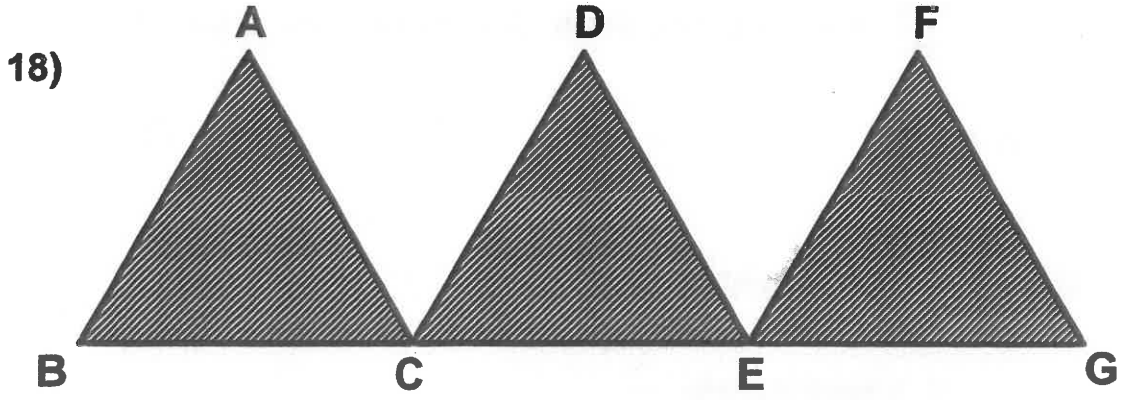
- A) 17
- B) 21
- C) 23
- D) 57

16) Simge, yeni aldığı bir romanı hergün bir önceki günden 10 sayfa daha fazla okuyarak bir haftada bitiriyor. İlk gün 15 sayfa kitap okuyan Simge'nin yeni aldığı roman kaç sayfadır?

- A) 315
- B) 305
- C) 295
- D) 285

17) 5A5A sayısı 9 ile bölünebilen bir sayı ise A hangi rakam olabilir?

- A) 1
- B) 3
- C) 4
- D) 5



Yukarıdaki şekilde ABC , DCE ve FEG eşkenar üçgendir. [BG]' nin uzunluğu 26 cm olduğuna göre boyalı şeklin çevre uzunluğu kaç cm'dir?

- A) 52 B) 65 C) 72 D) 78


19) Asya Pazartesi günü 8 sayfa, haftanın kalan günlerinde ise yedişer sayfa okuyarak okuma kitabını bitirmiştir. Asya'nın bu hafta okuduğu sayfa sayısını hesaplamak için kurulması gereken işlem aşağıdakilerden hangisidir?

- A) $8 \times 7 + 6$ B) $8 \times (7 + 6)$ C) $8 + (7 \times 6)$ D) $(8 + 7) \times 6$

20)



Bir dijital saat yukarıdaki zamanı göstermektedir. Bu dijital saat 160 saniye sonra saat kaç gösterir?



21) $\frac{a+4}{14}$ kesri yarıma denk olduğuna göre, a kaçtır?

A) 3

B) 5

C) 1

D) 10

22) I.  0.87

II.  $\frac{7}{10}$

III.  % 45

Yukarıdaki ifadeleri küçükten büyüğe doğru sıralayınız.

A) III < II < I

B) II < III < I

C) I < III < II

D) III < I < II

23) Barış paketi 45 TL olan çikolatalardan 6 paket almıştır. Her pakette 35 tane çikolata vardır. Barış, bu çikolataları her kutuda beş çikolata olacak şekilde ayırarak paketini 13 TL'den satmıştır. Tüm paketleri satan Barış, kaç TL kar sağlamıştır?

A) 546

B) 276

C) 270

D) 210

24) Derya, her 200 ml limonataya 400 ml su ilave ederek şişelere doldurmuştur. Derya 3 L limonatayı şişelere doldururken toplam kaç ml su kullanmıştır?

A) 6 ml

B) 600 ml

C) 800 ml

D) 6000 ml

25) Bir satıcı fiyatları eşit olan iki çantayı 80 TL'ye almıştır. Çantalardan birini %30, diğerini %10 karla satmıştır. Buna göre, satıcı kaç TL kar elde etmiştir?

A) 18

B) 12

C) 16

D) 20

26) "445.237" sayısında "yüzler" basamağındaki rakamla "binde birler" basamağındaki rakamın basamak değerleri toplamı kaçtır?

- A) 400.7 B) 400.007 C) 400.07 D) 700.04

27) $22.6+22.06+22.006$ işleminin toplamı kaçtır?

- A) 66.18 B) 66.06 C) 66.066 D) 66.666

28) Evin bahçesinin $\frac{6}{20}$ ' sine gül, $\frac{2}{10}$ ' una ise karanfil ekilmiştir. Evin bahçesinin yüzde kaç ekilmemiştir?

- A) % 20 B) % 30 C) % 50 D) % 75

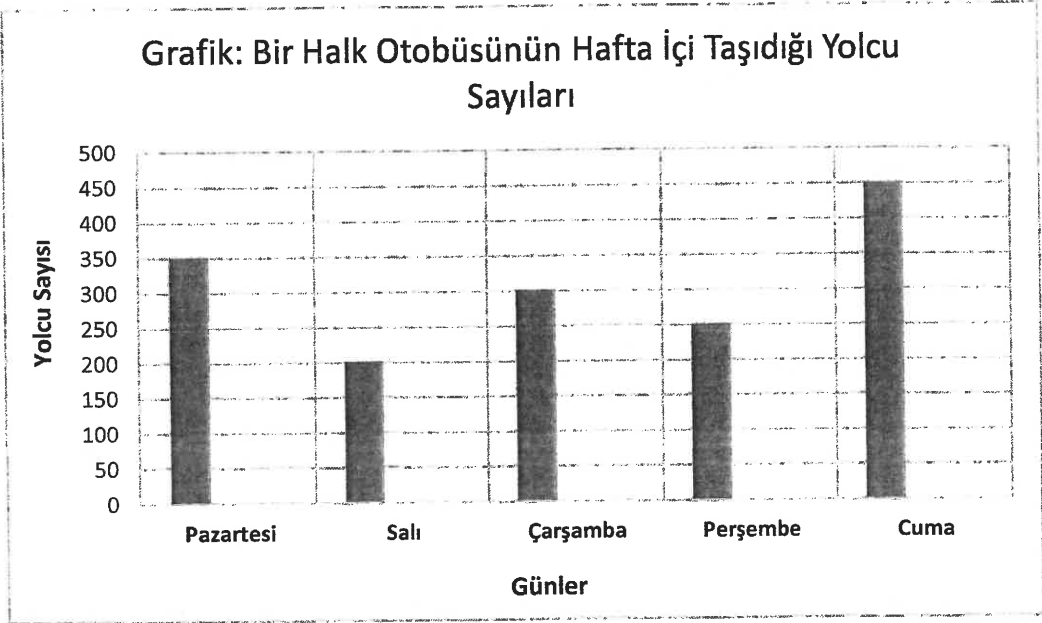
29) Sevgi 600 sayfalık okuma kitabının % 40 ' ını şubat tatilinde, kalan kısmının %75 ' ini yaz tatilinde okumuştur. Sevgi, kitabın tamamını bitirebilmesi için kaç sayfa daha okuması gerekir?

- A) 50 B) 90 C) 120 D) 150

30) Bir dar açı ile geniş açının toplamı 244° 'dir. Dar açının ölçüsü en az kaç olabilir?

- A) 65° B) 89° C) 170° D) 180°

31)



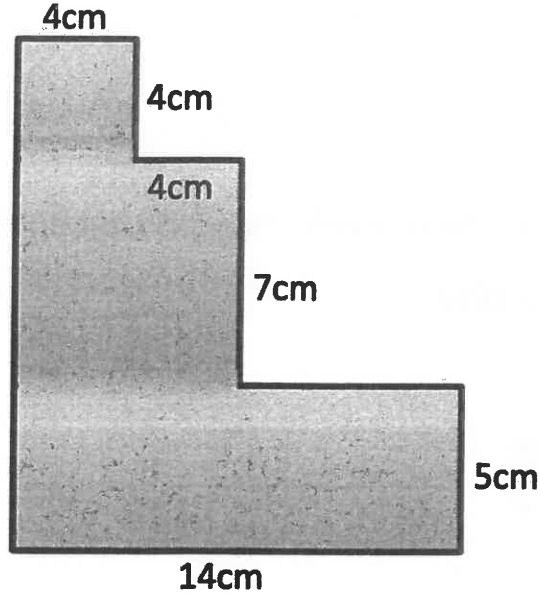
Verilen grafiğe göre aşağıdaki ifadelerden hangisi doğrudur?

- A) En çok yolcu Pazartesi günü taşınmıştır.
- B) En az yolcu Perşembe günü taşınmıştır.
- C) Salı ve Perşembe günü taşınan yolcuların sayılarının toplamı 400'dür.
- D) Cuma günü taşınan yolcu sayısı Çarşamba günü taşınan yolcu sayısından 150 fazladır.

32) Alanı 64 cm^2 olan bir karenin bir kenarı ile bir dikdörtgenin kısa kenarı eşittir. Bu dikdörtgenin alanı 96 cm^2 olduğuna göre çevresi kaç cm'dir?

- A) 12 cm
- B) 24 cm
- C) 40 cm
- D) 48 cm

33) Aşağıda verilen şeklin çevresi kaç cm'dir ?



A) 38



B) 52

C) 54

D) 60

34)

Bir karenin kenar uzunluklarını %50 artırarak oluşturduğumuz yeni karenin alanı 144 cm^2 ise önceki karenin çevresi kaç cm'dir?



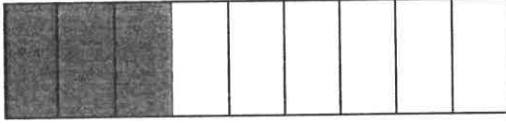
A) 64 cm

B) 48 cm

C) 32 cm


D) 24 cm

35)

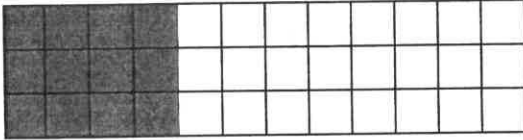


Yukarıda modellenen kesir, aşağıda modellenen kesirlerden hangisine denktir?

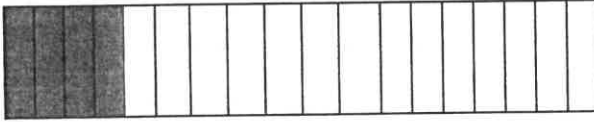
A)



B)



C)



D)



36) Bir su deposunda 903.6 litre , diğerinde 373 litre su vardır. İki depodaki su miktarını eşitlemek için birinden diğerine kaç litre su aktarılmalıdır?

A) 265.3

B) 530.6

C) 337.9

D) 1276.6

37) Rakamları farklı üç basamaklı en büyük çift ve en küçük çift sayıların toplamı kaçtır?

A) 1024

B) 1088

C) 1089

D) 1102

38) Rakamları birbirinden farklı yedi basamaklı en büyük sayının okunuşu aşağıdakilerden hangisidir?

A) Dokuz milyon yedi yüz seksen altı bin beş yüz otuz dört


B) Dokuz milyon yedi yüz seksen altı bin beş yüz kırk üç

C) Dokuz milyon sekiz yüz altmış yedi bin beş yüz kırk üç

D) Dokuz milyon sekiz yüz yetmiş altı bin beş yüz kırk üç

39)

$$(6 \times 1000000) + (7 \times 1) + (2 \times 1000) + (1 \times 10) + (3 \times 10000)$$



Yukarıda çözümlenmiş hali verilen doğal sayı aşağıdakilerden hangisidir?

A) 6032017

B) 63217

C) 63002027

D) 632027

40)

$$I. \quad 17 \times 10 = A$$

$$II. \quad A \times 5 = B$$

$$III. \quad B \times 10 = C$$

Yukarıda verilen çarpma işlemlerine göre, $A + B + C$ toplamı kaçtır?

A) 1052

B) 9520

C) 8052

D) 952

**2019-2020 Eğitim-Öğretim Yılı İçin
Burs ve Giriş Sınavı**

Türkçe - İngilizce Soru Kitapçığı

11 Mayıs 2019

İsim - Soyisim :

Sınıf :

Uyarı: Başlayınız denilmeden soru kitapçığını açmayınız.

Açıklamalar

1. Bu soru kitapçığı 40 Türkçe ve 20 İngilizce sorusu olmak üzere 16 sayfadan oluşmaktadır. Lütfen kontrol ediniz.
2. Sınav süresi 90 dakikadır.
3. Cevaplar, size verilen cevap kağıdına işaretlenecektir.
4. Size zor gelen sorular üzerinde fazla zaman harcamayıp, başka sorulara geçiniz. Zamanınız kalırsa cevaplamadığınız sorulara yeniden dönebilirsiniz.

Başarılar dileriz.

Türkçe Soruları

1. “ Dilek, Demet, Derya ve Didem aynı sınıfta okuyor.” cümlesinde geçen kişi isimleri sözlük sırasına dizilirse hangisi baştan üçüncü olur?

- A) Dilek B) Demet C) Derya D) Didem

2. Aşağıdaki sözcüklerden hangisi daha çok yapım eki almıştır?

- A) Bakışların B) Duruşunun
C) Bozguncusun D) Kapıcıdan

3. Aşağıdaki dizelerde hangi ses olayı yoktur?

Etrafı kaplamış gecenin karanlığı
İçi ürperir her insanın
Estikçe rüzgarın karanlığı

- A) Ulama B) Ünlü düşmesi
C) Kaynaştırma harfi D) Ünsüz yumuşaması

(4. ve 5. sorular aşağıdaki paragrafa göre cevaplandırılacaktır.)

Bugünün uygar dünyasında gazete, bir haber ulaştırma aracı olmaktan çok iç ve dış olayları yorumlama, haberleri tamamlama ve insanları uyarma aracı olmuştur. Burada gazetenin okurla iletişim kurmasının önemi ortaya çıkmaktadır. Okurlarıyla iletişim kuramayan gazeteler zaten ortalığa çıkamaz. Çıksa da ilgi göremez.

4. Gazetenin görevleri arasında aşağıdakilerden hangisi paragrafta yer almamıştır?

- A) Çevremizde yaşananlar konusunda vatandaşları ikaz etme
B) Dünyada yaşanan olayları yorumlayarak sunma
C) Haberleri tamamlama ve okurla iletişim kurma
D) Gerçekleri çarpıtmadan, olduğu gibi ortaya koyma

5. Parça için en uygun başlık aşağıdakilerden hangisidir?

- A) Gazetenin Görevi
- B) Haberleşme Araçları
- C) İyi Okuyucu
- D) İletişimin Önemi

6. Aşağıdaki kelime çiftlerinden hangisinde diğerlerinden farklı bir anlam ilişkisi vardır?

- A) Gitmek – gelmek
- B) Bulmak - bulamamak
- C) Bağlamak –çözmek
- D) Ağlamak – gülmek

7. “ İyilik – Masamız – Gökyüzü ” sözcükleri, yapıları bakımından sırasıyla hangi seçenekte doğru olarak verilmiştir?

- A) Basit – Türemiş – Birleşik
- B) Birleşik – Türemiş – Basit
- C) Basit – Türemiş - Türemiş
- D) Türemiş – Basit – Birleşik

8. Aşağıdaki sözcüklerle anlamlı ve kurallı bir cümle oluşturmak için sıralama nasıl olmalıdır?

özür zorunda yerinde kalmaz dilemek söz söyleyen

1

2

3

4

5

6

- A) 3 – 6 – 1 – 5 – 2 – 4
- B) 4 – 3 – 6 – 2 – 5 – 1
- C) 2 – 4 – 5 – 6 – 1 – 3
- D) 5 – 2 – 1 – 6 – 3 – 4

9. Aşağıdaki cümlelerden hangisinin sonuna soru işareti (?) getirilmelidir?

- A) Yarın bize kimlerin geleceğini unuttum
- B) Hangisini alacağıma karar veremedim
- C) Bize bugüne kadar niye bir şey anlatmadın
- D) Okuldan sonra nereye gideceğini ben de bilmiyorum

10. Aşağıdaki altı çizili sözcüklerden hangisi bir ismin yerini tutmuştur?

- A) Akşamları odasında yüksek sesle müzik dinlerdi.
- B) İki arkadaş bütün yaz sitenin futbol takımında oynadı.
- C) Her gün büyük bir telaşla evden çıkardı.
- D) Sizler bu güzel ülkenin geleceğisiniz.

11. "Bugün sınıfta bütün soruları doğru cevapladım." cümlesindeki fiilin zamanı ve kişisi hangi seçenekte doğru olarak verilmiştir?

- A) Di'li geçmiş zaman -2. Tekil kişi
- B) Şimdiki zaman – 1. Tekil kişi
- C) Di'li geçmiş zaman – 1. Tekil kişi
- D) Geniş zaman - 1. Tekil kişi

12. Aşağıdaki cümlelerin hangisinde anlamdaş (eş anlamlı) sözcükler bir arada verilmiştir?

- A) Dayın kültürlü ve dürüst birine benziyor.
- B) Gece gündüz durmadan çalışıyor.
- C) Sıcak ve güneşli bir gün bizi bekliyor.
- D) Evin etrafına kara, siyah bulutlar çökmüştü.

13. Aşağıdaki cümlelerden hangisi devriktir?

- A) Konuşurken çıktık okulun bahçesinden.
- B) Ablam bize masal anlattı.
- C) Yarın işe gitmeyeceğini anlattı.
- D) Karşımda yüzü bembeyaz oldu.

(14 ve 15. soruyu ařađıdaki metne gre cevaplayınız.)

MUTLULUK

ođu zaman; řoye olmasaydı, byle olmasaydı daha mutlu olurduk, diye dřünrz. Oysa mutluluk, neyin olmadığıyla deđil, neyin olduđuyla llp tartılmalıdır. Olması gerekenlerin bařında da sevgi ve yaratıcılık gelir sanırım. "Mutluluđun resmini yapabilir misin?" diye soruyordu řair. Neden yapılmasın ki? Annesinin gğsne bařını gvenle yaslamıř bir ocuđun ve annesinin yařadığı mutluluk. Gzel bir řiir yazmak, mzık bestelemek, resim yapmaktır. Yařamını adadıđın bir projenin gerekleřmesidir...

14. Parada, mutluluk tanımlanırken hangisinden sz edilmemiřtir?

- A) Bařkalarından stn olmak
- B) Hayal ettiđi bir řeyi resmetmek
- C) Arzuladıđı bir projeyi gerekleřtirmek
- D) ok sevdiđi, ihtiya duyduđu biriyle beraber olmak

15. Paraya gre mutluluđun temelinde ne vardı?

- A) Gven ve dostluk
- B) Sevgi ve yaratıcılık
- C) Yetenek ve kararlılık
- D) alıřma ve bařarı

16. Aşağıdaki metinde Ömer Seyfettin ile ilgili sorulardan hangisinin yanıtı yoktur?

28 Şubat 1884'te doğdu. Öğrenimine Gönen'de başladı. Babasının görevi nedeniyle sürekli yer değiştirmemeleri için annesiyle birlikte İstanbul'a gönderildi. Öykücülükte kendine özgü diliyle yeniliklerin kapısını araladı. Öyküleri Türk Edebiyatı'nın unutulmayacak eserleri arasında yer aldı. 6 Mart 1920'de İstanbul'da henüz 36 yaşındayken yaşamını yitirdi.

- A) Ömer Seyfettin ne zaman öldü?
- B) Ömer Seyfettin İstanbul'a niçin gönderildi?
- C) Ömer Seyfettin ne zaman doğdu?
- D) Ömer Seyfettin nerede doğdu?

17. Aşağıdaki cümlelerin hangisi söylendiği zamanda gerçekleşmektedir?

- A) Hafta sonları jimnastiğe giderim.
- B) Bana çanta hediye almış.
- C) Annesiyle alışverişe gitti.
- D) Odasında ödevlerini yapıyor.

18. Aşağıdaki cümlelerin hangisinde “neden – sonuç” anlamı vardır?

- A) Spor yaparken kendimi iyi hissediyorum.
- B) Her gün spor yaparsan sağlıklı olursun.
- C) Sağlıklıyım; çünkü spor yapıyorum.
- D) Az yiyorum diyorsun; ama çok yiyorsun.

19. Aşağıdaki cümlelerin hangisinde belirtisiz ad tamlaması vardır?

- A) Sınav kağıdımı okulda unutmuşum.
- B) Duvarın rengini değiştirmeliyiz.
- C) Çocuğun odasını hemen toplayacağım.
- D) Burada siyah bir çanta unutmuşum.

20. Aşağıdaki cümlelerin hangisinde fiilin kişisi farklıdır?

- A) Kitabın kapağını bile açmamış.
- B) Çantasından bir sürü kalem çıkardı.
- C) Bütün kitapları akşam okursun.
- D) Ödevlerini yine yapmadan gelmiş.

21. "O" kelimesi, aşağıdaki cümlelerin hangisinde sıfat olarak kullanılmıştır?

- A) O konuyu mutlaka çalışmalısın.
- B) Derste olanlara o bile inanmadı.
- C) Annemle dün o mu konuşmuş?
- D) Böyle işlerden o hiç anlamaz.

22. Aşağıdaki cümlelerin hangisinde "de" nin yazımıyla ilgili yanlışlık yapılmıştır?

- A) Ben de yanınıza gelebilir miyim?
- B) Bu sıcak hava da gölgeye geçelim.
- C) O kapıyı nasıl açıp da çıkmış.
- D) Bahçeden de çiçekler koparmış.

23. Aşağıdaki cümlelerin hangisinde "-mi" nin yazımı ile ilgili bir yanlışlık yapılmıştır?

- A) Bu kitapları daha sonra mı okuyacaksınız?
- B) Doğum gününe arkadaşlarını çağıracakmı sın?
- C) Araba birazdan gelir hepiniz hazır mısınız?
- D) Telefonunu nerede bıraktığını hatırlayamadın mı?

24. Aşağıdaki kelimelerin hangisi büyük ünlü uyumuna uymaz?

- A) Doğa
- B) Evren
- C) Kainat
- D) Bahar

25. “Adamın bu ince davranışı herkesin gözüne çarptı.” cümlesindeki altı çizili sözcüğün zıt anlamlısı aşağıdakilerden hangisidir?

A) Kaba

B) Nazik

C) Sert

D) Kalın

26. Aşağıdaki cümlelerin hangisinde sıfat tamlaması vardır?

A) Annem mutfaktayken kapı çaldı.

B) Arkadaşımın odasında burnum kanadı.

C) Babam korkusuz dev masalını anlattı.

D) Duvarın rengini yine değiştirmişler.

27. Aşağıdaki cümlelerde altı çizili sözcüklerin hangisi hem yapım eki hem çekim eki almıştır?

A) Çocuklar geleceğe atılmış tohumlardır.

B) Bir dostumuz yoksa kalabalık içinde yalnızız.

C) İnsan için en değerli hazine sağlığımızdır.

D) Eskiden bizi birbirimize bağlayan en önemli şey sevgiydi.

28. Aşağıdaki cümlelerde altı çizili sözcüklerden hangisinin sestışı vardır?

A) Sana söz veriyorum, bu işi halledeceğim.

B) Bu işe bir son vermek gerekiyor.

C) Dış kapının mandalı oluyor her zaman.

D) Yol uzadıkça zaman geçmek bilmiyor.

29. Aşağıdaki cümlelerin hangisinde altı çizili sözcük soyut değildir?

A) Etrafımda mutlu insanlar var.

B) Babam korku nedir bilmezdi.

C) Yoldaki makine sesleri herkesi rahatsız etti.

D) Rüyalarımda hep aynı şeyleri görüyorum.

30. Aşağıdaki cümlelerin hangisi doğru yazılmıştır?

- A) Lefkoşa'lı gençler Dereboyu'nda buluşur.
- B) Lefkoşalı gençler Dereboyu'nda buluşur.
- C) Lefkoşa'lı gençler Dereboyunda buluşur.
- D) Lefkoşalı gençler Dereboyunda buluşur.

31. "Öğretmen birinci derste defterleri özenle imzaladı." cümlesinde aşağıdaki soruların hangisinin cevabı yoktur?

- A) Kim? B) Nasıl? C) Ne zaman? D) Nerede?

32. " Böyle olacağını bilseydim bu işe hiç başlamazdım." diyen bir kişinin duygusu aşağıdakilerden hangisidir?

- A) Pişmanlık B) Heyecan C) Kurnazlık D) Korku

33. "hanımeli" sözcüğünün doğru hecelere ayrılması aşağıdakilerden hangisidir?

- A) han-ım-e-li B) ha-nı-me-li C) ha-nım-e-li D) ha-nım-eli

34. "Çocuklar, öğretmenlerinin söylediklerini harfi harfine yaptılar." cümlesinde "harfi harfine" söz öbeğinin cümleye kattığı anlam aşağıdakilerden hangisinde vardır?

- A) Kapımıza gelen adam çok yaşlıydı.
- B) Anlatılanları dikkatle not aldı.
- C) Doktorun verdiği diyet listesine aynen uydu.
- D) Üzülerek de olsa sınıftan hemen çıktı.

35. "Hastalanmadan sađlıđın, acıkmadan tokluđun deđerini bilemeyiz; bununla birlikte iinde bulunduđumuz mutluluk, ok kk olaylardan, nemsiz sebeplerden dođabilir."

Yukarıdaki cmlede anlatılmak istenen ařađıdakilerden hangisidir?

- A) Kk řeyler de insanı mutlu edebilir.
- B) Sađlıđımıza dikkat etmeliyiz.
- C) Karnı tok olan insan mutludur.
- D) Hayatta herkes mutlu olmak iin abalar.

36. řu insanları anlayamadım gitti:

Ne ađaca benzer ne ieđe
Dnyayı versen kar etmez,
İlle de sahip olmak ister
Bařka birine.

Yukarıdaki řiirde hangi duygunun zerinde durulmaktadır?

- A) Kıskanlık
- B) A gzllk
- C) Sevgi
- D) Mutsuzluk

37. Ařađıdaki cmlelerin hangisinde bir deyim aıklamasıyla birlikte verilmiřtir?

- A) Koca kpeđi karřısında grnce yređi ađzına geldi.
- B) Bir saat iinde tası tarađı toplayıp yola ıktılar.
- C) Babasından yz bulamayınca annesinin yanına gitti.
- D) Sonunda gerek yz ortaya ıktı; maskesi dřt.

38. "Saklamak" szcđ ařađıdaki cmlelerin hangisinde" gizli tutmak, duyurmamak" anlamında kullanılmıřtır?

- A) zlmemesi iin benden bu haberi saklamıřlar.
- B) Annem okul kitaplarımı daha saklıyor.
- C) Peyniri suya koyup saklayabiliriz.
- D) Et rnlerini buzdolabında saklarız.

39. "Tarlalar buğday bekler senden, çocuklar ekmek." cümlesinde hangi kelime eylem bildirir?

A) bekler

B) tarlalar

C) ekmek

D) çocuklar

40. Aşağıdaki altı çizili sözcüklerden hangisi aldığı ek nedeniyle yeni bir anlam kazanmamıştır?

A) Herkes arasında saygı olmalıdır.


B) Denizci artık buralara uğramaz olmuş.

C) Yazlık tişörtler artık dolapta yerini aldı.

D) Evin her yerini böcekler basmış.

İngilizce Soruları

*Scales



PART A: Read the text and choose the correct answer.

BUTTERFLIES

The butterfly is an insect. Butterflies are famous for their wings, which are often colourful and bright. Butterfly wings are a bit like bird wings. Bird wings are made of feathers, but butterfly wings are made of tiny *scales. The wings have rainbow colours and different patterns. Some butterfly wings change their colour, when light hits the scales.

Butterflies have interesting life cycle stages. They start as eggs. When they are born, they are called caterpillars. This is the *larval stage* for the caterpillar. The caterpillars then move into a cocoon. This is the *pupal stage*. When the insect comes out of the cocoon, we call it a butterfly. This is the *adult stage* for the butterfly. They reach their adult stage in the summer.

Butterflies are all over the world. They live in warm or tropical climates, so you cannot see them in Antarctica. There may be as many as twenty thousand different types of butterflies. Butterflies usually eat flower nectar. Because of this, they are important to the life cycle of many flowers. Butterflies also need minerals, which they usually get from water found in dirt and sand. Some butterflies move from one place to another. They fly about three thousand miles every year. They fly between Mexico, Hawaii and California. About two thousand types live in Mexico.

1. Birds` wings have _____.

- A) scales B) rainbow colours C) feathers D) patterns

2. Some butterfly wings change colour _____.

- A) because they have feathers
B) when they are flying
C) because of the patterns
D) when light hits the scales

3. In which stage does the insect become a butterfly?

- A) larval stage B) adult stage C) pupal stage D) cycle stage

4. Butterflies do not live in _____.

- A) Antarctica B) California C) Mexico D) Hawaii

5. Which sentence is correct about butterflies?

- A) Butterflies are a type of bird.
B) Butterflies come out in the summer.
C) Butterflies do not eat or drink.
D) There are two thousand types in the world.

PART B: Choose the correct answer.

6. I need to go to the _____. I want to find a book about castles.

- A) museum B) library C) airport D) post office

7. A: Janet! Don't forget to put the milk in the _____.

B: Ok, dad. Don't worry.

- A) cooker B) wardrobe C) fridge D) shelf

8. A: Who is your best friend?

B: Look, there she is. She is wearing jeans with a belt and a t-shirt.

A)



B)



C)



D)



9. How does the boy feel?



A) happy

B) angry

C) hungry

D) tired

10. A: _____ do you go to the cinema?

B: Twice a month.

A) Where

B) When

C) How often

D) What time

11. I fell off my bicycle _____ I wasn't careful.

- A) because B) but C) or D) and

12. A: Are there _____ vegetables in the fridge?

B: Yes, there are _____ tomatoes and _____ carrot.

- A) some / an / any
B) some / a / an
C) any / some / a
D) any / some / an

13. A: _____ bicycle is that?

B: It is _____.


- A) What / her B) Who / her C) Whose / my D) Whose / hers

14. Susan goes to chess club twice a week. She can _____ chess very well.

- A) playing B) play C) plays D) played

15. Choose the option that describes the picture.

- A) Don't litter
- B) Don't save energy
- C) Recycle
- D) Plant a tree



16. A rock is _____ a leaf.

- A) heavy than
- B) more heavy than
- C) heavier than
- D) the heaviest

17. Carol and I usually _____ to work, but today we _____ the bus.

- A) are driving / are taking
- B) drives / take
- C) drive / take
- D) drive / are taking

18. I prefer _____ dinner at a restaurant, but today my family and I _____ at my grand parents' house because it's my father's birthday and he _____ going out on his birthday.

- A) have / are / don't like
- B) having / am / doesn't like
- C) having / are / doesn't like
- D) have / am / isn't liking

19. Miss Green`s lessons often _____ at 8 o`clock, but yesterday she _____ at school so we _____ any lessons with her.

- A) begins / wasn`t / didn`t do
- B) begin / weren`t / don`t do
- C) begins / isn`t / aren`t doing
- D) begin / wasn`t / didn`t do

20. Choose the correct option to put the sentence in the correct order.

1 2 3 4 5
play / today / they / tennis / didn`t

- A) 2-3-5-4-1
- B) 3-5-1-4-2
- C) 3-5-1-2-4
- D) 4-2-3-5-1

MATEMATİK	
1	D
2	C
3	D
4	A
5	C
6	B
7	A
8	B
9	A
10	C
11	B
12	B
13	D
14	C
15	D
16	A
17	C
18	D
19	C
20	A
21	A
22	A
23	B
24	D
25	C
26	B
27	D
28	C
29	B
30	A
31	D
32	C
33	D
34	C
35	B
36	A
37	B
38	D
39	A
40	B

TÜRKÇE	
1	D
2	C
3	B
4	D
5	A
6	B
7	D
8	A
9	C
10	D
11	C
12	D
13	A
14	A
15	B
16	D
17	D
18	C
19	A
20	C
21	A
22	B
23	B
24	C
25	A
26	C
27	D
28	D
29	C
30	B
31	D
32	A
33	B
34	C
35	A
36	B
37	D
38	A
39	A
40	D

İNGİLİZCE	
1	C
2	D
3	B
4	A
5	B
6	B
7	C
8	A
9	D
10	C
11	A
12	C
13	D
14	B
15	A
16	C
17	D
18	C
19	D
20	B

