

**2020-2021 Eğitim-Öğretim Yılı
Devlet ve Özel İlkokullar
Burs ve Giriş Sınavı**

Türkçe-İngilizce Soru Kitapçığı

27 Haziran 2020

İsim - Soyisim :

Sınıf :

Uyarı: Başlayınız denilmeden soru kitapçığını açmayınız.

Açıklamalar

1. Bu soru kitapçığı 40 Türkçe ve 20 İngilizce sorusu olmak üzere 17 sayfadan oluşmaktadır. Lütfen kontrol ediniz.
2. Sınav süresi 90 dakikadır.
3. Cevaplar, cevap kağıdına işaretlenecektir.
4. Size zor gelen sorular üzerinde fazla zaman harcamayıp, başka sorulara geçiniz. Zamanınız kalırsa cevaplamadığınız sorulara yeniden dönebilirsiniz.

Başarılar dileriz.

TÜRKÇE

1. Aşağıdakilerden hangisi soyut isimdir?

A) Sıcak

B) Hava

C) Deniz

D) Korku

2. Aşağıdaki sözcüklerin hangisinde, ince ünlü harflerin tümü vardır?

A) Görüntüler

B) Gelincikler

C) Üzerindeki

D)Gönlümüzdeki

3. Aşağıdaki hangi seçenekte belirtili isim tamlaması vardır?

A) Deniz kuşu

B) Yeni tahta

C) Masanın örtüsü

D) Sarı araba boyası

4. Aşağıdaki " O " sözcüklerinin hangisinden sonra virgül kullanılmalıdır?

A) O çalışkanlığıyla bilinirdi.

B) O şarkıyı dinlemedim.

C) O yılları unuttum.

D) O araba çok güzeldir.

5. " Bu " kelimesi hangi cümlede zamir olarak kullanılmıştır?

A) Bu iş bitince mutlu oluruz. B) Olup bitenleri bu hiç görmemiş.

C) Siz de bu pastalardan alınız. D) Okula bu yoldan gideriz.

Bugün pazar. Okul yok... Birkaç günden beri yağan yağmur bu sabah durdu. Sonbahar dışarda son bir ayrılık şenliği yapıyor. Uzaktaki sıra dağlar, sazlıklardaki sular, güneşe karşı gülümsüyor. Selvilerde gizli bir gönül sevinci var. Kalbimi derin derin yokluyorum. Görüyorum ki alışmaya, hatta bu karanlık ve can sıkıcı memleketi biraz da sevmeye başladım.

6. Paragrafın yazarı için aşağıdakilerden hangisi söylenebilir?

A) Neşeli B) İyimser C) Uysal D) Heyecanlı

7. Aşağıdaki sözcükler sözlükteki gibi sıralandığında hangisi en başta yer alır?

A) Gölet B) Göl C) Göçük D) Gözlük

8. Aşağıdaki cümlede hangi sözcük çoğul addır?

" Çoban kuşları ürkütmeye kıyamadı. "

A) Çoban B) Kuşları C) Ürkütmeye D) Kıyamadı

Sokağa çıkarken acele eder, biraz sonra çorabının olmadığını fark edip döneceği zaman gömlek de giymediğini fark eder. Gittiği yeri hatırlar gibi olur ama neresi olduğuna kesin karar veremez.

9. Yukarıdaki paragraftaki kişi için aşağıdakilerden hangisi söylenemez?

A) Tembel

B) Unutkan

C) Telaşlı

D) Dalgın

10. Aşağıdaki cümlede geçen sözcüklerden hangisi özel isimdir?

“ Girne, deniz kıyısında bir liman kentidir.”

A) Deniz

B) Girne

C) Liman

D) Kıyı

Kulaklarının, sağır denecek kadar ağır işitmesi sebebi ile, bağıra bağıra konuşmaya alışmıştı. Söze başladığı zaman bir topçu birliğine komut verdiğini zannetmek mümkündü. Konuşurken bastonunu havaya kaldırıp, sözlerine kuvvet vermek ister gibi sallardı. Hırçın bir insan damgasını vurduran en önemli özelliği sabırsız bir insan oluşuydu.

11. Aşağıdakilerden hangisi paragrafta anlatılan kişinin özelliklerinden değildir?

A) Yüksek sesle konuşması

B) Konuşurken hareketler yapması

C) Hırçın ve sabırsız oluşu

D) Davranışlarıyla insanları korkutması

12. Aşağıdaki cümlede hangi sözcük topluluk ismidir?

“Ormanda ateş yakmanın yasak olduğunu bilmiyor musunuz?”

A) Yasak

B) Ateş

C) Orman

D) Yakmak

13. Aşağıdaki cümlede, hangi sözcük ismin – i halinde **çoğul** bir isimdir?

“ Hasan dayı kapıyı çocukları ile birlikte açtı.”

A) Dayı

B) Kapıyı

C) Çocukları

D) Açtı

14. Aşağıdaki cümlede bulunan sözcüklerden hangi ikili, isim tamlaması oluşturmaktadır?

“Çocuklar evin bahçesinde oyun oynuyorlar.”

A) Çocuklar evin

B) Evin bahçesi

C) Bahçesinde oyun

D) Oyun oynuyorlar

İnsanların sevimli görünmesinin sebeplerinden biri de; tatlı dili güler yüzüdür. Niye insanlar bütün meselelerini güzellikle, güler yüzle halletmezler ki?... Bir konu hakkında hep kendini haklı göstermek, bunun için karşısındakinin kalbini kırmak, bağırp çağırarak karşıdan izleyen için dayanılmaz olur. Ne demişler.....

15. Yukarıdaki paragraftan çıkarılabilecek en önemli sonuç aşağıdakilerden hangisidir?

- A) İnsanlar ufak bir meseleyi büyütmelidir.
- B) Kendimizi tartıştığımız kişinin yerine koymak gerekir.
- C) Bir meseleyi çözenin en iyi yolu kendimizi haklı göstermektir.
- D) Güler yüz ve tatlı dille hallolmayacak mesele yoktur.

16. Aşağıdakilerden hangisi belirtisiz isim tamlamasıdır?

- A) Çiçek kokusu
- B) Kırların çiçeği
- C) İnsanların gürültüsü
- D) Denizin kokusu

17. Aşağıdaki cümlelerde altı çizili isimlerden hangisi yalın haldedir?

- A) Dün bir file dolusu elma aldım.
- B) İnce bele gümüş kemer yakışır.
- C) Arkanı yele verme, üşürsün.
- D) Çocuk hayretle file bakıyordu.

18. "Herkes bana bakıyor" cümlesinde geçen "herkes" sözcüğü nasıl bir sözcüktür?

A) Kişi Zamiri

B) Belgisiz sıfat

C) Belgisiz zamir

D) İşaret sıfatı

Okulun ve eğitimin amaçlarından biri de okumayı alışkanlık haline getirmektir. Bütün eğitim kurumları, bu amacın gerçekleşmesine çalışmaktadır. Çünkü bireylerin gelişmesinde, milletlerin kalkınma ve yükselmesinde, bu nokta ihmal edilemez.

Okumak gibi soylu bir işten, kitap gibi iyi bir arkadaştan kimse kendini uzak tutamaz. Onların yararını ve gerekliliğini inkar edemez. Muhakkak ki iyi memur, iyi işçi, iyi çiftçi, iyi tüccar, iyi sanatçı... kısacası iyi vatandaş daha çok okumuş ve okuyan kimseler arasından çıkmıştır ve çıkacaktır.

(Aşağıdaki 3 soruyu yukarıdaki parçaya göre cevaplayınız.)

19. Bireylerin gelişmesinde ve milletlerin yükselmesinde aşağıdakilerin hangisi dikkate alınmalıdır?

A) Kalkınmanın önemi ve gereği

B) Eğitime ayrılan alanların genişletilmesi

C) Eğitim kurumlarının bakım ve onarımı

D) Okumanın alışkanlık haline getirilmesi

20. Okumanın en önemli faydası aşağıdakilerden hangisidir?

A) İyi arkadaş kazandırması

B) İnsana üstünlük sağlaması

C) İyi vatandaş yetiştirilmesi

D) İnsanları kitaplara yaklaştırması

21. İyi memur, iyi işçi, iyi çiftçi, iyi tüccar, iyi sanatçı... olmak parçaya göre daha çok neye bağlıdır?

- A) Kitaplardan bol bol yararlanmaya
- B) Her zaman düzenli çalışmaya
- C) Ülkede meslek okullarının bulunmasına
- D) İleri bir ülkede yaşamaya

22. Aşağıdaki sözcüklerin hangisinde kalın ünlü harflerin tümü vardır?

- A) Ormanlarımız
- B) Korumalıyız
- C) Kuraklıktan
- D) Yurdumuzu

23. "Çok güzel bir seyahat yaptık." cümlesinde geçen "bir" kelimesi nasıl bir sıfattır?

- A) Sayı sıfatı
- B) İşaret sıfatı
- C) Belgisiz sıfat
- D) Niteleme sıfatı

24. Aşağıdakilerden hangisi belirtili isim tamlaması değildir?

- A) Okulun kapısı
- B) Kuşların yuvası
- C) Teyzemin şapkası
- D) Oyun bahçesi

25. Aşağıdaki hangi seçenekteki kelime isim hal eki almamıştır?

A) Evden

B) Okulda

C) Dersi

D) Dede

Alain (Alen), hiddetin bir hastalık olduğunu söyler hem de hiddeti bir Öksürüğe benzetir. Nasıl öksürük bir tahrişle gelirse hiddet de öyledir.

Bir kere başladı mı bir kere ile kalmaz; ikide bir hiddetlenir, sağa sola çatarsınız. Bu hastalığın tek tedavisi vardır, o da gülmeye başlamak.

(Aşağıdaki 3 soruyu yukarıdaki parçaya göre cevaplayınız.)

26. Alain (Alen)'e göre hiddet neye benzetilmiştir?

A) Öksürük

B) Kızamık

C) Sağa sola çatmak

D) Gülmeye alışmak

27. Aşağıdakilerden hangisi hiddet ve öksürüğün ortak özelliğidir?

A) Belli bir nedene bağlı olmaması

B) Bulaşıcı olması

C) Çevredekileri rahatsız etmesi

D) Başlayınca mutlaka devam etmesi

28. Paragrafa göre hiddetten kurtulmak için ne yapmak gerekir?

A) Hasta olmamak

B) Tahriş edici şeylerden uzak durmak

C) Gülmeye alışmak

D) Sağa sola çatmak

29. Aşağıdaki cümlelerin hangisinde soru zamiri vardır?
A) Hangi kitabı okuyalım?
B) Kaç öğrenci geldi?
C) Hangimiz okudu?
D) Ne gün çarşıya gideceğiz?
30. “Okuldan eve dönerken markete de uğradım.”
Yukarıdaki cümlede kaç kelime isim hal eki almıştır?
A) 2 B) 3 C) 4 D) 5
31. Aşağıdakilerden hangisi takısız isim tamlamasıdır?
A) Okulun pencereleri B) Dayımın ayakkabısı
C) Ali'nin ablası D) Çelik kapı
32. Aşağıdakilerden hangisi sıfat tamlaması değildir?
A) Üç elma B) Güzel araba
C) Yavaş gitti D) Hiçbir insan
33. Aşağıdaki cümlelerin hangisinde niteleme sıfatı kullanılmıştır?
A) Bazı insanları anlamakta güçlük çekiyorum.
B) Köy kahvaltıları hafta sonunun en güzel kahvaltı çeşididir.
C) Bu kutuları o dolaba koyalım.
D) Bence bu yıl okul balosu çok eğlenceli geçecek.

34. Aşağıdaki cümlelerin hangisinde zamir vardır?

- A) O adam her gün çalışır.
- B) Bugün onu görmedim.
- C) Silgiyi al, defteri ver.
- D) Bu masal çok güzel.

35. "Aras okuldan şimdi geldi."

Yukardaki cümlede hangi sorunun cevabı yoktur?

- A) Kim
- B) Ne zaman
- C) Nasıl
- D) Nereden

36. Aşağıdaki cümlelerin hangisinde özel isim yoktur?

- A) Okuldan eve mutsuz geldi.
- B) Öğrenciler Kıbrıs'ın Fethi konusunu öğrendi.
- C) Boncuk koydu köpeğinin ismini.
- D) Balkondaki çiçekleri Nergis sulamış.

37. Aşağıdaki cümlelerde altı çizili tamlamalardan hangisi isim tamlaması değildir?

- A) Okulun zili şimdi çalacak.
- B) Evinin yolunu karıştırmış dün.
- C) Sokağın başında babasını beklemiş.
- D) Çalışkan çocuklar başarılı oldular.

38. Aşağıdaki cümlelerin hangisinde işaret zamiri vardır?

- A) Bu yemeği çok beğendim.
- B) Yarın sen ve ben maça gidelim.
- C) Onu bana verir misin?
- D) Şu çocuğu çağırabilir misin?

39. Aşağıdakilerden hangisi belirtili isim tamlaması **değildir**?

- A) İpek şal
- B) Kahvenin tadı
- C) Gömleğin kumaşı
- D) Duvarın dibi

40. Aşağıdaki cümlelerin hangisinde, kullanılan kelimelerin ünlü harflerinin tümü kalın ünlülerden oluşmaktadır?

- A) Parkta çocuklar oyun oynuyorlar.
- B) İnsanlar kurallara uymazsa düzen bozulur.
- C) Ödevlerini bitirince dışarı çıkabilirsin
- D) Yemek hazırlanınca herkes ortadan kayboldu.

ENGLISH



PART A: Read the text and choose the correct answer.

PETS

Some people just have one pet while others keep different pets. If a person lives in a small house, or apartment, they can't keep a lot of pets as there isn't enough room. If they live in a big house that has a garden, they can keep more pets. A person who lives in a small house can keep a bird. They have brightly colored feathers and make nice sounds. If you have a parrot it can learn to talk. If a bird is too noisy, then they can keep some cute animals like turtles or hamsters. You can take them out and play with them. Fish are also a type of pet for people without much space or time. You just need to give some food and clean their bowl or tank.

People that have more space and time to look after a pet can keep something bigger that needs more care, such as a dog or cat. Cats don't need to be looked after as much as dogs, but they get lonely if there is no one with them. They often like to have someone to sit with. This makes them happy and they start to purr. If someone has a dog, they need to take it out twice a day for walks so that it can get exercise. There are other pets that need a very large amount of space like horses or donkeys. For these animals a person needs more than a big garden, they need a field so the animal has space to move and run around, as well as grass to eat. These are types of animals that can't come into the house.

1. Why can't people have a lot of pets if they live in a small house?

- A) They haven't got time
- B) They don't have enough space
- C) They don't like their noise
- D) They can't play with them

2. Which pet can you have if you haven't got much time?

- A) Cat
- B) Hamster
- C) Parrot
- D) Fish

3. Which sentence about cats is not true?

- A) You can have cats if you have space and time
- B) They get lonely if you are not with them
- C) They purr when they are lonely
- D) They don't have to be looked after as much as dogs

4. People need to take their dogs out for a walk to _____.

- A) get exercise
- B) meet other dogs
- C) to find food
- D) eat grass

5. According to the text, where can people keep pets like horses and donkeys?

- A) In the house
- B) In the garden
- C) In an apartment
- D) In a field

PART B: Choose the correct answer.

6. Kim and her family always go to the beach _____ Sundays. They get up very early _____ the morning and have breakfast _____ home before they go.

- A) on / in / in
- B) on / at / at
- C) at / in / on
- D) on / in / at

7. A: Where _____ my glasses? I can't find them.

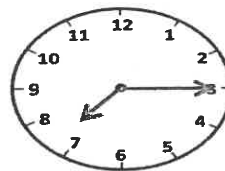
B: They _____ on the table last night.

A: Ohh, here they are, under these books.

- A) were / were
- B) is / was
- C) are / were
- D) are / are

8. A: What time does Ben wake up?

B: He wakes up at _____.



- A) half past seven
- B) quarter past seven
- C) twenty five to three
- D) seven o'clock



9. A: Would you like me to _____ some sandwiches?

B: No, I prefer _____ some pancakes.

- A) making / having B) make / have C) make / having D) making / have

10. James always has bruises on his knees _____ he falls off his bike all the time.

- A) because B) but C) so D) or

11. The Pacific Ocean is _____ the Atlantic Ocean.

- A) deep than B) deeper than C) deeper D) more deep

12. Jenny is a student. She _____ her pocket money by walking her neighbours' dog every day.

- A) sells B) earns C) pays D) buys

13. A: _____?


B: She is a cashier.

- A) What is your mother doing?
B) Where does your mother work?
C) How is your mother?
D) What does your mother do?

14. Read the description and choose the correct answer.

- A) Gallery
- B) Bank
- C) Office
- D) Laboratory

I am an artist. I paint pictures. This is a place where I can show my paintings so that art collectors can buy them.



15. A: What are your chores in the house Jake?

B: I have to _____.

- A) have a shower everyday
- B) comb my hair in the morning
- C) take the rubbish out
- D) get dressed

16. Tony _____ staying at home on Saturdays. He enjoys _____ time with his friends, but today he _____ out with them because he has got the flu.

- A) doesn't likes / spends / doesn't go
- B) doesn't like / spending / isn't going
- C) don't like / spending / isn't going
- D) doesn't like / is spending / doesn't go

17. ***These creatures live in places near the sea, but you can see them at the zoo, too. They are good at doing tricks like balancing a ball on their noses.***

- A) Parrot
- B) Stonefish
- C) Snake
- D) Sea lion

18. A: Have a nice day.

B: _____

A) Thanks, you too.

B) Two tickets, please.

C) That's awful.

D) Here you are.

19. A: Could you please do the dishes?

B: _____

A) It looks great.

B) Yes, it is.

C) You're welcome.

D) I'm sorry, but I can't.

20. Choose the correct option to put the sentence in the correct order.

has / at / he / always / 8 o'clock / a shower

1 2 3 4 5 6

A) 2-5-3-1-4-6

B) 3-1-6-2-5-4

C) 3-4-1-6-2-5

D) 4-3-5-2-6-1

**2020-2021 Eğitim-Öğretim Yılı
Devlet ve Özel İlkokullar
Burs ve Giriş Sınavı**

Matematik Soru Kitapçığı

27 Haziran 2020

İsim - Soyisim :

Sınıf :

Uyarı: Başlayınız denilmeden soru kitapçığını açmayınız.

Açıklamalar

1. Bu soru kitapçığı 40 Matematik sorusu olmak üzere 11 sayfadan oluşmaktadır. Lütfen kontrol ediniz.
2. Sınav süresi 90 dakikadır.
3. Cevaplar, cevap kağıdına işaretlenecektir.
4. Size zor gelen sorular üzerinde fazla zaman harcamayıp, başka sorulara geçiniz. Zamanınız kalırsa cevaplamadığınız sorulara yeniden dönebilirsiniz.

Başarılar dileriz.

1) Bir kalemın fiyatı 12 TL'dir. Bir defterin fiyatı ise kalemın fiyatının 2 katından 4 fazladır. Selin, bir kalem ve birkaç defter alarak toplam 68 TL ödediğine göre, kaç defter almış olur?

A) 2

B) 3

C) 4

D) 5

2) $\frac{C}{D+1} = \frac{45}{75}$ eşitliğinde "C" ve "D" doğal sayılardır. Bu durumda " $C \times D$ " nin alabileceği en küçük değer kaçtır?

A) 7

B) 8

C) 12

D) 15

3) İrmak birinci gün 75 TL, ikinci gün ise ilk gün harcadığı paranın 3 katından 7 TL daha fazla harcamıştır. İrmak üçüncü gün, ilk iki gün harcadığı toplam paranın 2 katından 15 TL daha fazla harcadığına göre, üç günde toplam kaç TL harcamış olur?

A) 232

B) 629

C) 936

D) 1006

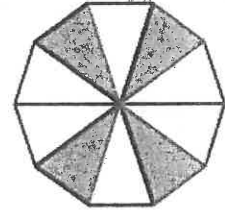
4) Aşağıdakilerden hangisi eş parçalardan oluşmuş yandaki şekildeki boyalı bölgeyi temsil eden kesre denk değildir?

A) $\frac{6}{15}$

B) $\frac{12}{30}$

C) $\frac{16}{40}$

D) $\frac{26}{60}$



5) Ersin Bey, paketi 480 TL olan kalemlerden 5 paket almıştır. Her pakette 30 tane kalem bulunmaktadır. Ersin Bey, bu kalemleri her kutuda beş kalem olacak şekilde ayırarak paketini 120 TL'den satmıştır. Tüm paketleri satan Ersin Bey, bu satıştan kaç TL kar elde etmiştir?

A) 1200

B) 1400

C) 2400

D) 3600

6) 3 yarım saat ile 5 çeyrek saatin toplamı kaç saat kaç dakika eder?

A) 1 saat 65 dakika

B) 2 saat 15 dakika

C) 2 saat 30 dakika

D) 2 saat 45 dakika

7)  , örüntüsünde 4. terim aşağıdakilerden hangisidir?

A) 

B) 

C) 

D) 

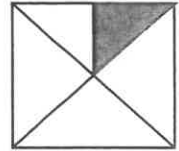
8) Yandaki karede taralı bölgenin alanı tüm karenin alanının kaçta kaçtır?

A) $\frac{1}{2}$

B) $\frac{1}{4}$

C) $\frac{1}{5}$

D) $\frac{1}{8}$



9) Aşağıdaki sayı doğrusunda K ve M ile gösterilen kesirler hangi şıkta doğru verilmiştir?



A) $K = \frac{1}{4}$, $M = \frac{2}{4}$

B) $K = \frac{1}{4}$, $M = 1\frac{1}{2}$

C) $K = \frac{3}{4}$, $M = \frac{6}{4}$

D) $K = \frac{3}{4}$, $M = 1\frac{2}{4}$

10) Aşağıdakilerden hangisi paralelkenarın özelliklerinden biri değildir?

- A) Karşılıklı kenar uzunlukları birbirine eşittir.
- B) Karşılıklı kenarları birbirine paraleldir.
- C) Karşılıklı açılarının ölçüleri birbirine eşittir.
- D) Köşegen uzunlukları birbirine eşittir.

11) Bir tepsi böreğin $\frac{1}{3}$ 'ünü Ayşe, $\frac{3}{12}$ 'ünü Fatma, $\frac{7}{24}$ 'sini Ahmet ve $\frac{1}{8}$ 'ini Ali yemiştir. Buna göre en az böreği kim yemiştir?

- A) Ayşe
- B) Ahmet
- C) Ali
- D) Fatma

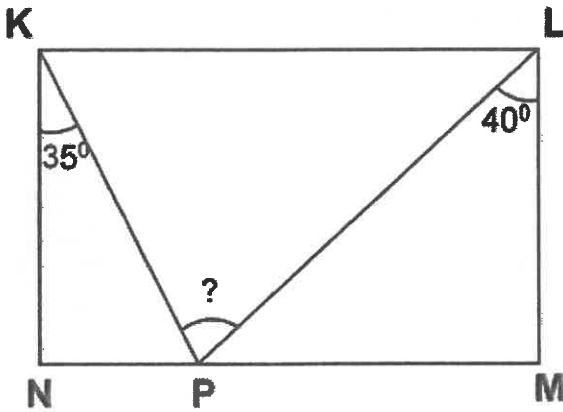
12) Ardışık beş çift sayının toplamı 280'dir. Bu sayılardan en büyüğü ile en küçüğünün çarpımı aşağıdakilerden hangisidir?

- A) 3120
- B) 3012
- C) 60
- D) 52

13) Bir yolcu firmasına ait otobüs 13:15'te hareket ederek yola çıkmıştır. Otobüs saat 18:05'te durarak yarım saat yemek molası vermiştir. Yemek molasından sonra otobüs tekrar hareket ederek saat 22:20'de gideceği yere varmıştır. Otobüs hareket halinde iken yolculuk toplam kaç saat sürmüştür?

- A) 8 sa 5 dk B) 8 sa 35 dk C) 9 sa 5 dk D) 9 sa 35 dk

14)



Yukarıdaki KNML dikdörtgeninde $s(\text{NKP})=35^\circ$ ve $s(\text{PLM})=40^\circ$ olduğuna göre $s(\text{KPL})$ kaç derecedir?

- A) 65° B) 75° C) 95° D) 105°

15) Aysel annesinin hediye ettiği kumbarasına ilk gün biriktirdiği 15 TL'sini atar. Bundan sonraki her gün kumbarasına 6 TL ilave eden Aysel'in 30. günün sonunda kumbarasında kaç TL'si birikmiş olur?

- A) 189 B) 174
C) 183 D) 195



16) a ve b sayma sayıları olmak üzere, $\frac{a+2}{35}$ en küçük bileşik kesir, $\frac{27}{b+1}$ en büyük basit kesir olduğuna göre, a – b kaçtır?

- A) 60 B) 16 C) 6 D) 5

17) Bartu ile Aral'ın yaşları toplamı 39'dur. Bartu'nun yaşı, Aral'ın yaşının iki katından 3 fazla olduğuna göre, Bartu'nun beş yıl sonraki yaşı kaçtır?

A) 12

B) 17

C) 27

D) 32


18) Şekildeki modelin $\frac{2}{5}$ 'si boyalıdır. Bu modelin boyalı olmayan kısmının yarısı daha boyandığına göre, boyalı alanı gösteren kesir aşağıdakilerden hangisi olur?

A) $\frac{3}{5}$

B) $\frac{7}{10}$

C) $\frac{4}{5}$

D) $\frac{9}{10}$



19) $\frac{3}{5} = \frac{21}{A+1}$ ve $\frac{6}{B-2} = \frac{2}{3}$ olduğuna göre $A - B$ kaçtır?

A) 23

B) 26

C) 35

D) 45

20) Okulumuzda dersler 45 dakika, teneffüsler 10 dakika ve öğle arası 1 saattir. Okulda 8 ders ve 4 teneffüs vardır. İlk ders saat 8:10'da başladığına göre okul saat kaçta biter?

A) 16:50

B) 15:50

C) 14:50

D) 13:50

21) Arda Bey, almak istediği 88330 TL değerindeki bir araba için 4330 TL peşinat ödemiştir. Kalan borcunu 12 taksitte ödemeyi planlamaktadır. Arda Bey'in 5. taksiti ödedikten sonra yatırması gereken toplam kaç TL borcu kalmıştır?

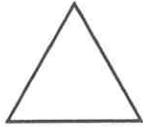
A) 35000

B) 39000

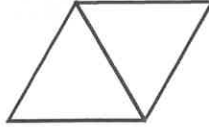
C) 49000

D) 53330

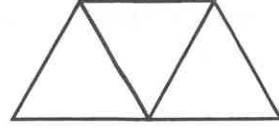
22) Aşağıda pipetlerle oluşturulan örüntünün 7. şeklinde kaç tane pipet vardır?



1. Şekil



2. Şekil



3. Şekil

A) 9

B) 11

C) 13

D) 15

23) Aşağıdakilerden hangisi dikdörtgenin özelliklerinden birisidir?

A) Bütün kenar uzunlukları birbirine eşittir.

B) İç açıları toplamı 180 derecedir.

C) Karşılıklı kenar uzunlukları farklıdır.

D) Köşegenleri eşittir ve birbirini ortalar.

24) Aşağıda, soldaki sayılar ile sağdaki sayılar arasında bir ilişki vardır. Bu ilişkiye göre "★" yerine hangi sayı gelmelidir?

15	2
78	5
54	3
84	4
99	★

A) 6

B) 5

C) 4

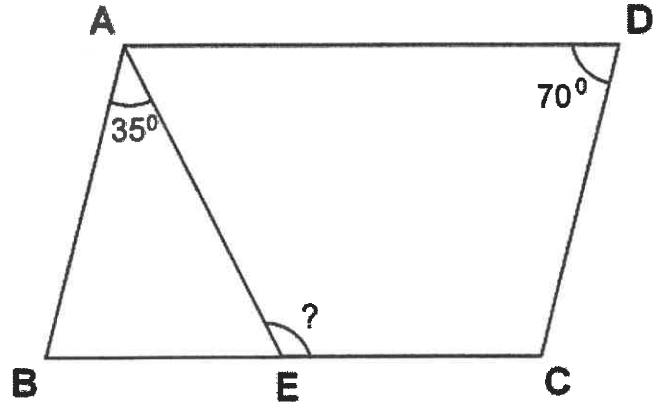
D) 2

25) Barış, bir süre çalışarak 200 TL kazanmıştır. Üç gün daha çalışsaydı toplam 500 TL kazanacaktı. Bu durumda, Barış 200 TL kazanmak için kaç gün çalışmıştır?

- A) 1 B) 2 C) 4 D) 5

26) Yandaki ABCD paralelkenarında, $s(\angle ADC)=70^\circ$ ve $s(\angle BAE)=35^\circ$ 'dir. Buna göre AEC açısının ölçüsü kaç derecedir?

- A) 70° B) 95°
C) 105° D) 110°



27) Hasan cebindeki parası ile 4 kitap alırsa 24 lirası artıyor. 9 kitap alırsa 56 lira borçlu kalıyor. Buna göre bir kitabın fiyatı kaç liradır?

- A) 16 B) 24 C) 32 D) 48

28) Aşağıdaki kesirler denk olduğuna göre " A + B " kaçtır?

$$\frac{22}{6} = 3\frac{A}{18} = \frac{B}{24}$$

- A) 100 B) 88 C) 76 D) 12

29) Her gün bir önceki günden 20 tane daha fazla soru çözen İpek, üçüncü gün 120 soru çözmüştür. Buna göre, İpek beş günde toplam kaç tane soru çözmüştür?

A) 300

B) 440

C) 600

D) 800

30) 8 saatte 1 dakika geri kalan bir saat 16 günde kaç dakika geri kalır?

A) 12


B) 24

C) 48


D) 72

31) Aşağıdaki şekillerden hangisinde boyalı olan kısım tüm şeklin $\frac{75}{100}$ 'i kadardır?

A)



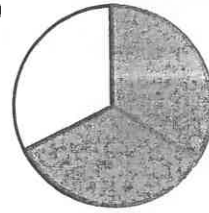
B)



C)



D)



32) Mervelerin sınıfında 40 öğrenci vardır. Öğretmenleri sınıfa bir torba ceviz getirerek herkese eşit olarak paylaşmak istiyor. Sınıfa 10 kişi gelmediği için herkese 5 ceviz fazla düşüyor. Buna göre torbada kaç ceviz vardı?

A) 400

B) 500

C) 550

D) 600

33) Tahsin Bey 76, torunu ise 12 yaşındadır. Kaç yıl sonra Tahsin Bey'in yaşı torununun yaşının 5 katı olur?


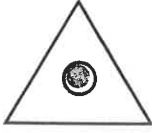
A) 2

B) 3

C) 4

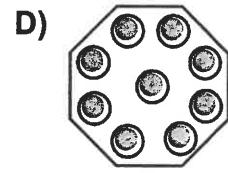
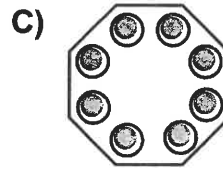
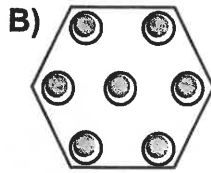
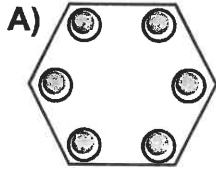
D) 5

34)



?

Yukarıdaki şekil dizisi belli bir kurala göre oluşturulmuştur. Bu kurala göre, “?” yerine aşağıdaki seçeneklerden hangisi gelmelidir?



35) 04.09.1998 tarihinde doğan Aslı, 03.06.2016 tarihinde liseden mezun olmuştur. Aslı liseden mezun olduğunda kaç yaşındaydı?

A) 17 yıl 10 ay 29 gün

B) 17 yıl 8 ay 29 gün

C) 18 yıl 10 ay 29 gün

D) 18 yıl 8 ay 29 gün

36) $\frac{m+2}{8} < 1$ olduğuna göre “m” yerine kaç tane sayma sayısı yazılabilir?

A) 5

B) 6

C) 7

D) 3

37)

Fuat, parasının tamamı ile arkadaşlarına dağıtmak için tanesi 80 kuruş olan kalemlerden 60 tane aldı. Belli bir süre sonra kalemlerin tanesi 20 kuruş ucuzladı.

Buna göre Fuat kalemleri ucuzladığı fiyattan alsaydı kaç tane daha fazla kalem alabilirdi?

A) 10

B) 15

C) 18

D) 20

38) Üç sayının toplamı 220'dir. Birinci sayı ikinci sayıdan 30 küçük, üçüncü de ikinciden 40 fazla ise büyük sayı ile küçük sayının farkı kaçtır?

A) 40

B) 70

C) 90

D) 110

39) Aşağıdaki kesirlerden hangisi $\frac{2}{3}$ ile $\frac{4}{9}$ arasındadır?

A) $\frac{11}{27}$

B) $\frac{10}{18}$

C) $\frac{15}{18}$

D) $\frac{20}{27}$

40) Pelin, tatilinin altmışta yirmi dördünü yurt dışında geçirdi. Bu durumda, Pelin tatilinin en az kaç gününü yurt dışında geçirdi?

A) 8

B) 26

C) 4

D) 2

2020-2021 Eğitim-Öğretim Yılı
Devlet ve Özel ilkokullar
Burs ve Giriş Sınavı
CEVAP ANAHTARI

MATEMATİK	
1	A
2	C
3	C
4	D
5	A
6	D
7	A
8	D
9	B
10	D
11	C
12	A
13	B
14	B
15	A
16	C
17	D
18	B
19	A
20	B
21	C
22	D
23	D
24	A
25	B
26	C
27	A
28	A
29	C
30	C
31	B
32	D
33	C
34	B
35	B
36	A
37	D
38	B
39	B
40	D

TÜRKÇE	
1	D
2	D
3	C
4	A
5	B
6	B
7	C
8	B
9	A
10	B
11	D
12	C
13	C
14	B
15	D
16	A
17	A
18	C
19	D
20	C
21	A
22	B
23	C
24	D
25	D
26	A
27	D
28	C
29	C
30	B
31	D
32	C
33	B
34	B
35	C
36	A
37	D
38	C
39	A
40	A

ENGLISH	
1	B
2	D
3	C
4	A
5	D
6	D
7	C
8	B
9	C
10	A
11	B
12	B
13	D
14	A
15	C
16	B
17	D
18	A
19	D
20	C

